

제 4 교시


직업탐구 영역(상업 경제)

성명

수험 번호

제 [] 선택

1. 다음은 환경 관련 뉴스이다. 이와 같은 상황을 통제하기 위한 국제 환경 협약으로 가장 적절한 것은?



컴퓨터와 주변 기기에서 나오는 전자 폐기물들이 중국과 인도를 메우더니, 이젠 아프리카의 나라들로 옮겨져 지구를 오염시키고 있습니다. 전자 폐기물의 폐해가 커지면서 유엔이 선진국들을 향해 공개적으로 유해 폐기물 이전에 대해 경고하였습니다.

- ① 바젤 협약 ② 파리 협정 ③ 람사르 협약
- ④ 몬트리올 의정서 ⑤ 생물 다양성 협약

2. 다음은 ○○(주)의 신입 직원 모집 공고의 일부이다. 신입 직원이 담당할 직무가 포함되는 기업의 부문별 활동으로 가장 적절한 것은?

신입 직원 모집 공고 ○○(주)

- 지원 자격: 특성화고등학교 졸업 예정자
- 추천 인원: 학교별 1명
- 모집 인원: 00명
- 담당 직무
 - 신규 인력 채용 계획 및 모집 업무 지원
 - 직원의 교육 훈련 및 복리 후생 업무 지원

- ① 자본 조달을 위한 재무 분석 자료 정리
- ② 전산 프로그램에 매입·매출 전표 입력
- ③ 상품 판매 촉진을 위한 광고 문구 제작
- ④ 원자재 재고 파악 및 생산 공정 서류 작성
- ⑤ 인사 기록 카드 및 인력 수급 계획서 작성

3. 다음은 ○○(주)의 자금 조달 사례를 나타낸 것이다. (가), (나)에 나타난 증권 시장에 대한 설명으로 옳은 것은? [3점]

(가) ○○(주)는 코스닥 시장에서 운영 자금을 확보하기 위하여 자사가 보유한 주식을 매도하여 2억 원을 조달하였다.

(나) ○○(주)는 투자자에게 증권이 최초로 공급되는 시장에서 신규 사업에 필요한 자금을 조달하기로 하고, △△증권(주)에 채권 발행 업무를 위임하여 10억 원을 조달하였다.

- ① (가)는 간접 금융 시장에 해당한다.
- ② (가)는 발행된 증권이 투자자들 사이에서 매매되는 시장이다.
- ③ (나)는 장내 시장과 장외 시장으로 구분한다.
- ④ (가)는 단기 금융 시장이고, (나)는 장기 금융 시장이다.
- ⑤ (가)와 (나)는 한국거래소가 운영하는 시장이다.

4. 다음은 ○○(주)의 내부 컨설팅 보고서이다. [현재 상황]에서 [개선 방안]의 유통 경로 정책으로 변경할 경우 나타날 수 있는 현상으로 적절한 것만을 <보기>에서 고른 것은?

컨설팅 보고서 ○○(주) 전략기획팀

[현재 상황]

- 일정한 지역에 하나의 소매상에게 독점적 판매권을 부여
- 최근 자사 상품에 대한 수요는 증가하고 있으나 제한된 점포 수로 인해 판매 기회 상실

[개선 방안]

- 자사 상품 취급을 원하는 모든 소매상들에게 상품을 공급하는 유통 경로 정책으로 변경
- 자사 상품을 취급하는 소매상 점포 수 증대

<보 기>

ㄱ. 자사 상품에 대한 이미지가 고급화될 것이다.

ㄴ. 소매상에 대한 자사의 통제력이 감소할 것이다.

ㄷ. 소비자에 대한 자사 상품의 노출 빈도가 감소할 것이다.

ㄹ. 지역 내 소매상들 간 자사 상품 판매 경쟁이 심화될 것이다.

- ① ㄱ, ㄴ ② ㄱ, ㄷ ③ ㄴ, ㄷ ④ ㄴ, ㄹ ⑤ ㄷ, ㄹ

5. 다음은 ○○(주)의 해외 시장 진출 회의록이다. [대안 선택 기준]에 따라 선택된 해외 진출 방식으로 적절한 것은?

해외 시장 진출 회의록 ○○(주) 기획조정실

[현재 상황]

- 당사의 기술 개발 수준, 브랜드 이미지는 해외에서 높은 평가를 받고 있음.
- 당사는 해외 진출 경험 및 해외 직접 투자 여력이 없음.

[대안]

- 1안: 당사가 가진 특허권, 브랜드, 노하우 및 기타 경제적 가치가 있는 경영 자산을 해외 기업에 제공하고 그 대가로 로열티를 받는 방식
- 2안: 해외에 당사의 현지 기업을 설립하여 직접 제품을 생산하는 방식

[대안 선택 기준]

- 제시된 [대안] 중 [현재 상황]에 부합하는 해외 진출 방식을 선택함.

- ① BOT 방식 ② 턴키 계약 방식
- ③ 플랜트 수출 방식 ④ 국제 라이선싱 방식
- ⑤ 경영 관리 계약 방식

상업 경제

2 (상업 경제)

직업탐구 영역

6. 다음 ○○(주)가 도입한 물류 정보 기술로 가장 적절한 것은?

○○(주)는 새로운 물류 정보 기술을 접목해 상품 진열 위치를 주소화시킨 스마트 매장을 선보였다. 이 기술은 상품에 부착된 전자 태그에 내장된 칩의 데이터를 비접촉으로 읽어낸다. 매장에 마련된 리더기에 상품의 전자 태그를 갖다 대면 상품 이름부터 색상 종류, 사이즈 정보, 재고 현황 등이 표시된다.

- ① 전자 문서 교환(EDI) ② 첨단 화물 운송(CVO)
③ 유닛 로드 시스템(ULS) ④ 전자 주문 시스템(EOS)
⑤ 무선 주파수 식별(RFID)

7. 다음 ○○(주)가 도입한 마케팅 관리 기법에 대한 설명으로 적절한 것만을 <보기>에서 고른 것은?

○○(주)는 기존 고객 정보를 활용한 개인별 맞춤 정보 서비스를 시작하면서 좋은 반응을 얻고 있다. 고객별로 생일 축하 카드나 할인 쿠폰 등을 모바일로 제공하여 기업 이미지를 제고하고 있다. 이와 같이 ○○(주)는 고객 특성에 맞는 마케팅 활동을 실시하여 고객 중심의 경영 기법을 통해 지속적으로 고객의 니즈에 부합하는 다양한 정보를 제공함으로써 고객과의 우호적인 관계를 유지하고 있다.

<보 기>

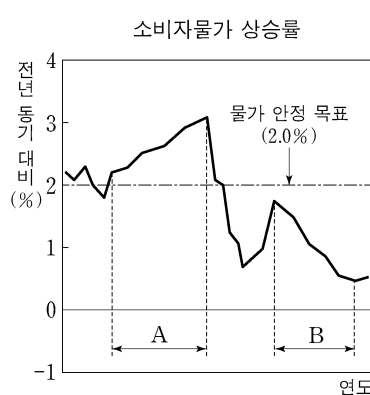
- ㄱ. 모든 고객에게 동일한 서비스를 제공한다.
ㄴ. 고객 DB를 활용함으로써 고객 가치를 제고한다.
ㄷ. 고객 점유율보다 시장 점유율 확대에 중점을 둔다.
ㄹ. 고객 충성도 강화를 통한 평생 고객화에 중점을 둔다.

- ① ㄱ, ㄴ ② ㄱ, ㄷ ③ ㄴ, ㄷ ④ ㄴ, ㄹ ⑤ ㄷ, ㄹ

8. 다음 자료는 한국은행의 물가 안정 목표에 따른 통화 신용 정책과 가상의 소비자물가 상승률을 나타낸 것이다. A, B 구간에서 한국은행이 취할 수 있는 통화 신용 정책으로 적절한 것은? (단, 소비자물가 상승률에 따른 통화량만 고려한다.) [3점]


한국은행은 「한국은행법」 제6조 제1항에 의거 정부와 협의하여 물가 안정 목표를 설정하고 있다. 2019년 이후 물가 안정 목표는 소비자물가 상승률(전년 동기 대비) 기준 2.0%이다. 한국은행은 소비자물가 상승률이 물가 안정 목표에 근접하도록 통화 신용 정책을 운영한다.

- 한국은행(www.bok.or.kr) -



- ① A 구간에서는 금융 기관 대출을 확대한다.
② A 구간에서는 통화 안정 증권을 상환한다.
③ B 구간에서는 기준금리를 인하한다.
④ B 구간에서는 지급 준비율을 인상한다.
⑤ A 구간보다 B 구간에서 국·공채를 매각한다.

9. 그림은 사회 보험에 대한 수업 장면이다. (가), (나)에 해당하는 보험에 대한 설명으로 옳은 것은? [3점]



- ① (가)는 근로 복지 공단에서 관리한다.
② (가)는 개인의 자유 의사에 의해 가입한다.
③ (나)는 근로자가 보험료 전액을 부담한다.
④ (가)는 저축 기능이 있고, (나)는 보장 기능이 있다.
⑤ (가)와 (나)는 소득에 따라 보험료를 차등 납부한다.

[10~11] 다음은 우리나라 ○○(주)의 경영 전략 보고서의 일부이다. 물음에 답하시오.

경영 전략 보고서

○○(주)

[현재 상황]

■ 기업 내부 환경

- 신규 해외 진출을 계획하고 있으나 전문 인력 부족으로 사업 추진 곤란
- 군대식 조직과 같은 수직적 명령 체계로 신속한 의사 결정이 가능하나, 경영자의 판단 착오로 인한 경영 불확실성 증가

■ 기업 외부 환경

- 미국의 경기 회복 기대
- 미 달러화 대비 원화 가치 하락 지속

[해결 방안]

- 해외 사업 분야 전문 인력을 활용하여 경영자의 의사 결정에 도움을 줄 수 있는 방향으로 조직 개편
- 환율의 추이에 따라 효율적인 업무 수행

[실 행]

- 전문성을 지닌 참모를 현재 조직에 추가하는 조직 구조로 변경
- 수출입 등 기업 업무 수행 시 환율을 고려한 의사 결정

10. 위 자료에서 [실행] 후 변경된 조직 구조에 대한 설명으로 가장 적절한 것은?

- ① 특정한 과제 해결을 위한 일시적 조직이다.
② 팀장을 중심으로 운영되는 수평적 조직이다.
③ 제품별·고객별·지역별 독립채산제로 운영된다.
④ 명령 일원화 원칙을 유지하면서 업무 수행에 대한 조언을 활용한다.
⑤ 구성원 한 명이 두 개 부서에 동시에 소속되어 업무의 범위가 확대된다.

11. 위 자료에 나타난 환율 추이가 지속될 경우 ○○(주)가 환율을 고려하여 수립할 의사 결정으로 적절한 것만을 <보기>에서 고른 것은? (단, 환전을 전제로 하며, 제시된 자료 외에는 고려하지 않는다.) [3점]

<보 기>

- ㄱ. 미 달러화 표시 예금 인출 시기를 앞당긴다.
ㄴ. 직원들의 미국 해외 연수를 조기에 실시한다.
ㄷ. 미국에서 차입한 외화 채무의 상환 시기를 연장한다.
ㄹ. 미국으로부터 수입 시 현재 환율로 선물환 계약을 체결한다.

- ① ㄱ, ㄴ ② ㄱ, ㄷ ③ ㄴ, ㄷ ④ ㄴ, ㄹ ⑤ ㄷ, ㄹ

12. 다음 기사에서 △△(주)가 수행한 사회적 책임으로 가장 적절한 것은? (단, 캐럴의 기업의 사회적 책임 피라미드 이론(1991)에 근거한다.)

△△(주)는 미래 과학 기술 연구를 위한 발전 기금을 대학에 기부했다. 또한 과학 재단을 설립하여 독창적 연구를 통해 국가 발전과 인류 사회에 공헌하도록 지원하고 있다. △△(주)는 2012년 80억여 원 상당의 부동산을 기부하기 시작해 현재까지 총 766억 원을 기부했다.

- ○○신문, 2020년 7월 24일 자 -

- ① 자선적 책임 ② 법률적 책임 ③ 윤리적 책임
④ 경제적 책임 ⑤ 환경적 책임

13. 다음은 A(주)의 상품 매입 대금 지급과 관련된 대화이다. 거래처에 지급할 결제 수단에 대한 설명으로 옳은 것만을 <보기>에서 고른 것은? (단, 제시된 자료 외에는 고려하지 않는다.)

부장님, 거래처에서 매입한 상품 대금 5백만 원을 지급해야 합니다.

현재 잔액은 4백만 원이고, 당좌 차월이 2백만 원 한도로 약정되어 있습니다.

우리 A(주)가 거래하고 있는 B 은행 당좌 예금 잔액은 얼마인가요?

그럼, B 은행 당좌 예금에서 인출되는 수표를 발행하여 지급하세요.

1

2

3

4

<보 기>

- ㄱ. 금전 증권에 해당한다.
ㄴ. 지급인을 B 은행으로 기재한다.
ㄷ. 수취인을 필수로 기재해야 한다.
ㄹ. 거래처가 B 은행에 제시할 경우 부도 처리된다.

- ① ㄱ, ㄴ ② ㄱ, ㄷ ③ ㄴ, ㄷ ④ ㄴ, ㄹ ⑤ ㄷ, ㄹ

14. 다음은 우리나라 ○○(주)의 A 씨의 수입 업무 일지 일부이다. 이를 통해 알 수 있는 A 씨가 수행한 업무로 적절한 것만을 <보기>에서 고른 것은? (단, 가격 조건은 인코텀즈 2010에 의한다.) [3점]

수입 업무 일지		담당자: A
7월 10일	수출업자로부터 가격 조건을 DAT Incheon port로 거래 제의를 받음.	
7월 13일	거래 제의 조건으로 수입 계약을 체결함.	
7월 20일	수입 물품의 선적 완료를 통보받음.	
8월 5일	은행에 운송 서류가 도착하여 대금을 결제한 후, 운송회사로부터 물품을 인수하기 위한 서류를 받음.	
8월 7일	수입 통관 후 물품을 인수함.	

<보 기>

- ㄱ. 물품 수출 통관 제비용을 지급하였다.
ㄴ. 수입항까지 운송 계약을 체결하고 해상 운임을 지급하였다.
ㄷ. 운송 서류를 제시하고 화물인도지시서(D/O)를 수령하였다.
ㄹ. 세관장으로부터 수입신고필증을 교부받고 물품의 수입 통관 절차를 수행하였다.

- ① ㄱ, ㄴ ② ㄱ, ㄷ ③ ㄴ, ㄷ ④ ㄴ, ㄹ ⑤ ㄷ, ㄹ

15. 다음은 무역의 사례를 조사한 수행 평가 보고서이다. A, B기업이 수행한 무역에 대한 설명으로 옳은 것만을 <보기>에서 있는 대로 고른 것은?

수행 평가 보고서

작성자: ○○○

- 과제: 무역 사례 조사
- 방법: 인터넷 검색
- 조사 내용
 - 한국의 A 기업은 중국 기업으로부터 가구용 원목을 수입해 통관하지 않은 상태에서 원형 그대로 일본 기업에 수출하였다.
 - 한국의 B 기업은 자체 생산한 부품을 베트남에 있는 거래처에 수출하고 현지에서 조립·생산하여 판매하고 있다.

<보 기>

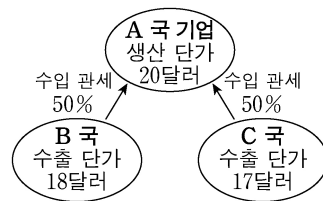
- ㄱ. A 기업이 수행한 무역은 매매 차익 획득을 목적으로 한다.
ㄴ. B 기업이 수행한 무역은 완제품에 대한 높은 관세를 회피하기 위한 거래 방법이다.
ㄷ. A와 B 기업이 수행한 무역은 간접 무역 형태이다.

- ① ㄱ ② ㄷ ③ ㄱ, ㄴ ④ ㄴ, ㄷ ⑤ ㄱ, ㄴ, ㄷ

16. 다음 [사례 1]과 [사례 2]는 경제 통합 체결 전·후를 나타낸 것이다. 경제 통합 체결 후 나타나는 경제 현상에 대한 설명으로 적절한 것만을 <보기>에서 고른 것은? (단, A 국 기업의 갑 상품 수입 가격은 'B, C 국의 수출 단가 + 수입 관세'이고, 갑 상품만 고려하며, 제시된 자료 외에는 고려하지 않는다.) [3점]

[사례 1]

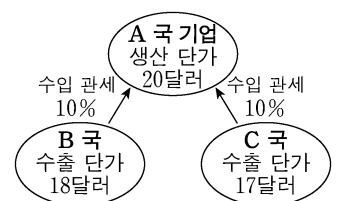
- 경제 통합 체결 전
 - A 국 기업은 갑 상품의 자체 생산 단가가 수입 가격보다 낮기 때문에 수입을 하고 있지 않음.



- 경제 통합 체결 후
 - A 국과 B 국은 갑 상품의 수입 관세를 철폐하는 FTA를 체결, 발효하였음.

[사례 2]

- 경제 통합 체결 전
 - A 국 기업은 갑 상품의 수입 가격이 가장 낮은 국가로부터 수입을 하고 있음.



- 경제 통합 체결 후
 - A 국과 B 국은 갑 상품의 수입 관세를 철폐하는 관세 동맹을 체결, 발효하였음.

<보 기>

- ㄱ. [사례 1]은 A 국의 입장에서 교역이 발생하는 무역 창출 효과가 나타난다.
ㄴ. [사례 2]에서 A 국은 관세 수입이 증가한다.
ㄷ. [사례 2]는 A 국의 입장에서 수입국이 C 국에서 B 국으로 변경되는 무역 전환 효과가 나타난다.
ㄹ. [사례 1]과 [사례 2]에서 A 국과 B 국은 C 국으로부터 수입 시 공동 관세율을 적용한다.

- ① ㄱ, ㄴ ② ㄱ, ㄷ ③ ㄴ, ㄷ ④ ㄴ, ㄹ ⑤ ㄷ, ㄹ

17. 다음은 A 학생의 현장 실습 보고서의 일부이다. (가)~(다)에 해당하는 판매 방식에 대한 설명으로 적절한 것만을 <보기>에서 있는 대로 고른 것은? [3점]

현장 실습 보고서

작성자: A

• 내용: 다양한 판매 활동 실습

판매 방식	실습 내용
(가)	○○마트에서 상품의 진열과 매장 방문 고객 응대를 실습하였음.
(나)	△△기업의 화장품 판매원과 함께 고객의 직장으로 찾아가 화장품 판매를 실습하였음.
(다)	인터넷을 통해 제품을 판매하는 □□닷컴 본사에서 주문 접수 처리를 실습하였음.

<보 기>

ㄱ. (가)는 (다)에 비해 상품 보관 기간을 고려한 매장 진열이 더 중요하다.

ㄴ. (나)는 (가)에 비해 고객 발굴 활동이 더 필요하다.

ㄷ. (다)는 (나)에 비해 판매 과정에서 시간과 장소의 제약을 더 받는다.

- ① ㄱ ② ㄷ ③ ㄱ, ㄴ ④ ㄴ, ㄷ ⑤ ㄱ, ㄴ, ㄷ

18. 다음은 [A, B 국의 8월 국제 수지]와 [9월의 대외 거래]를 가상으로 나타낸 것이다. A, B 국의 8월 대비 [9월의 대외 거래]를 반영한 8~9월 누적 국제 수지에 대한 설명으로 옳은 것은? (단, 제시된 자료 외에는 고려하지 않는다.) [3점]

[A, B 국의 8월 국제 수지]			[9월의 대외 거래]	
(단위 : 억 달러)				
구분 \ 국가	A 국	B 국		
상품수지	15.0	-11.0	• A 국이 B 국에게 상품 수입액 10억 달러 지급	
서비스수지	-14.6	13.0	• A 국이 B 국에게 지적 재산권 사용료 20억 달러 지급	
본원소득수지	9.3	5.4	• A 국이 B 국에게 해외 이주비 2억 달러 지급	
이전소득수지	-2.3	-2.2	• A 국이 B 국으로부터 무상 원조 3억 달러 수취	
자본수지	-4.2	-1.2	• A 국이 B 국으로부터 비거주자 임금 12억 달러 수취	
금융계정	11.3	-5.4		

- ① A 국의 상품수지의 흑자폭은 확대되었다.
- ② A 국의 해외 여행 경비가 속하는 수지의 적자폭은 축소되었다.
- ③ B 국의 저작권 매매가 속하는 수지의 적자폭은 확대되었다.
- ④ B 국의 국제 기구 출연금이 속하는 수지의 적자폭은 확대되었다.
- ⑤ B 국의 해외 주주 배당금이 속하는 수지의 흑자폭은 확대되었다.

[19~20] 다음은 상품 수출을 위한 판매 청약서 작성 관련 자료이다. 물음에 답하시오. (단, 가격 조건은 인코텀즈 2010에 의한다.)

우리나라 ○○무역(주)는 물품의 구조를 경제적·실용적으로 개선하여 확보한 권리를 적용하여 생산한 진공 펌프를 미국의 △△(주)에게 수출하려고 한다. 이에 ○○무역(주)의 A 부장은 B 사원에게 판매 청약서 작성을 지시하였다.

[A 부장의 지시 내용]	[B 사원이 작성한 판매 청약서]	
<ul style="list-style-type: none"> • 품질은 재료, 구조, 성능 등을 기재한 설명서에 의함. • 수출 수량은 1,000대이고, 선적 조건은 2020년 중 연월 선적 조건이 충족되어야 함. • 수출 대금은 은행의 지급 확약을 통해 화환어음 제시와 동시에 지급 받을 수 있도록 함. • 인천항을 선적항으로 하고 상품을 본선에 적재 완료한 후 위험은 △△(주)로 이전되며, 목적항인 뉴욕항까지의 해상 운임과 보험료는 당사에서 부담하는 것으로 함. • 해상 보험은 신약관의 기본 조건 중 가장 넓은 담보 조건으로 가입함. • 대금 회수 시 첨부 서류는 상업송장, 보험증권, 선하증권 각각 3통임. 	품 목	진공 펌프
	품질 조건	견본
	수량 조건	1,000대
	선적 조건	2020년 7-8월
	결제 조건	At Sight L/C
	가격 조건	CFR NewYork
	보험 조건	ICC(C)

19. 위 자료에서 [B 사원이 작성한 판매 청약서]를 [A 부장의 지시 내용]에 맞게 수정할 내용으로 옳지 않은 것은? [3점]

- ① 품질 조건은 명세서로 수정한다.
- ② 선적 조건은 수정 사항이 없다.
- ③ 결제 조건은 D/P로 수정한다.
- ④ 가격 조건은 CIF NewYork으로 수정한다.
- ⑤ 보험 조건은 ICC(A)로 수정한다.

20. 위 자료에 나타난 상업의 주체와 객체에 대한 설명으로 옳은 것만을 <보기>에서 고른 것은? [3점]

<보 기>

ㄱ. A 부장은 자기 명의로 거래한다.

ㄴ. B 사원은 경업 금지 의무를 갖는다.

ㄷ. 대금 회수 시 첨부 서류에는 상품 증권이 포함되어 있다.

ㄹ. 진공 펌프에 적용된 권리의 존속 기간은 출원일로부터 20년이다.

- ① ㄱ, ㄴ ② ㄱ, ㄷ ③ ㄴ, ㄷ ④ ㄴ, ㄹ ⑤ ㄷ, ㄹ

* 확인 사항

○ 답안지의 해당란에 필요한 내용을 정확히 기입(표기)했는지 확인하시오.